





1 КЛАС

СЪСТЕЗАНИЕ АЗ И ЧИСЛАТА

/име, презиме, фамилия/

/училище/

1. Пресметни.



2. Реши верижката.

$$\diamond 9 - \diamond 1 = \square - \diamond 2 = \square - \diamond 3 = \square$$

3. Запиши на кои две числа сборът е 9, както е показано.

9

1 + 8


+ 7

6 +


+ 5

4. Кое дете в кой автобус ще се качи? Пресметни и свържи.

$2 + 5 + 3$



$1 + 5 + 3$



5. Оцвети само квадратчетата със сбор 7.

$7 + 0$


$2 + 3$


$4 + 3$

$5 + 2$

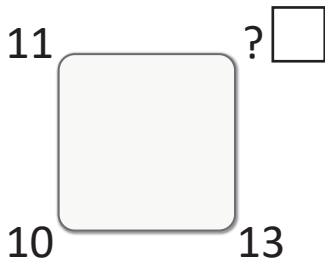
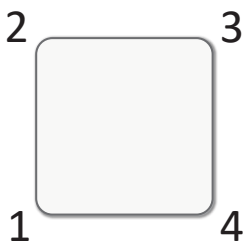
$4 + 4$

6. На рожден ден имало 5 деца. Дошли още 5.
Колко станали общо?





7. Кое число се крие зад въпросителния знак? Запиши го.



8. Коя задача е вярна? Огради.

A. $9 = 9 + 0$

Б. $9 = 6 + 2$

В. $9 = 8 + 2$

9. Коя задача е вярна според броя на фигурите? Огради.

A. $5 + 3$

Б. $4 + 2$

В. $4 + 3$

