



**1 клас**

/име, фамилия/

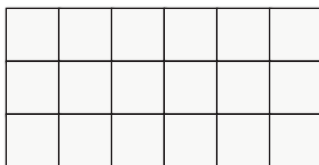
/училище/

### 1. Запиши $>$ , $=$ , $<$ .

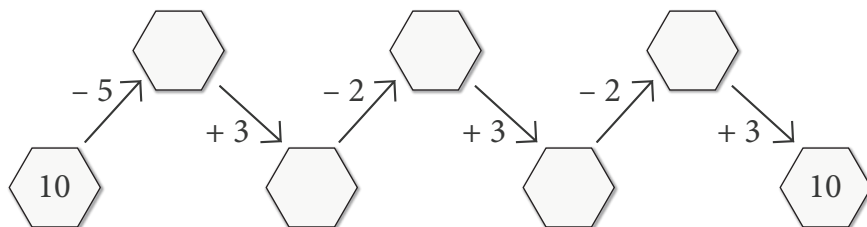
2 кг + 6 кг  7 кг

8 кг - 5 кг  3 кг

4 кг + 3 кг  9 кг



### 2. Реши верижката и получи подарък.



3. Свържи така, че да е вярно.

$10 - 0$

$9 - 8$

$6 + 4$

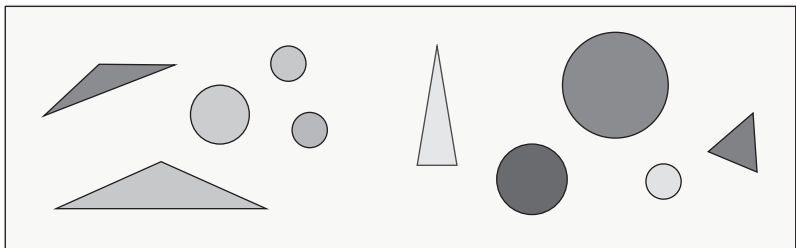



$7 + 3$


$5 + 4$

$4 + 6$

4. Препброй и запиши броя на геометричните фигури.



 \_\_\_\_\_ броя

 \_\_\_\_\_ броя

5. Запиши числата от 10 до 0, като изваждаш по 2 от предишното.

10					0
----	--	--	--	--	---

6. Реша задачата.

$9 = 4 + 4 + \square$

--	--	--	--	--	--

7. Асен получил 20 подаръка, а Иво с 4 по-малко.  
Колко подаръци получил Иво?

--	--	--	--	--	--	--	--	--	--	--	--	--	--	--	--	--	--	--	--	--



Отговор: 

--	--

 подаръка

8. Свържи.

20

едноцифрено число

15

3

двучифрено число

7

16

1

9. Купих 5 ябълки, 3 круши и 2 праскови.

А. Колко са плодовете общо?

--	--	--	--	--	--	--	--	--	--	--	--	--	--	--	--	--	--	--	--	--

Б. С колко ябълките са повече от крушите?

--	--	--	--	--	--	--	--	--	--	--	--	--	--	--	--	--	--	--	--	--



10. Прброй и запиши колко са помощниците на Дядо Коледа.



Отговор:  помощници