



I клас

/училище/

/име, презиме, фамилия/

1. Запиши дадените числа като сбор от две равни събираеми.

$6 = \square \text{ и } \square$

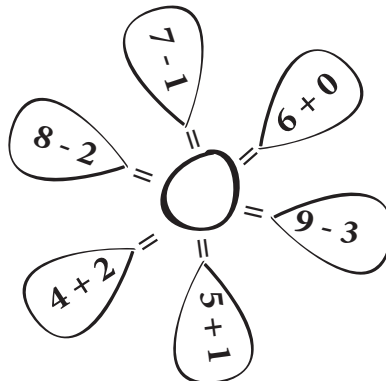
$4 = \square \text{ и } \square$

$8 = \square \text{ и } \square$

$10 = \square \text{ и } \square$

$2 = \square \text{ и } \square$

2. Пресметни и открий кое число ще запишеш в кръгчето.

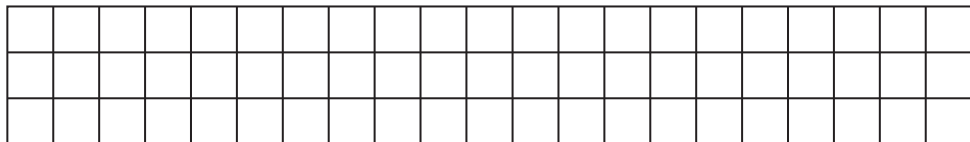


3. Открий в кой от изразите знакът НЕ Е поставен вярно.
Огради.

а) $6 + 3 \square 2 + 7$

б) $4 + 3 \square 5 + 1$

в) $2 + 6 \square 4 + 2$



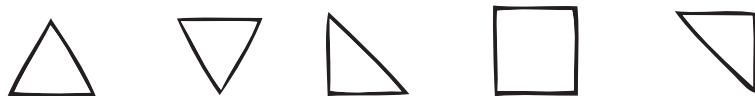
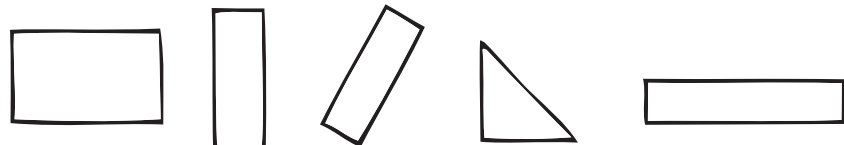

4. В коя редица са записани всички числа до 10?

а) 0, 5, 4, 1, 2, 7, 9, 10

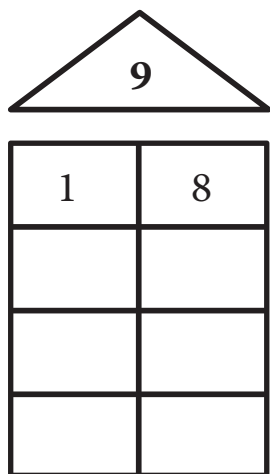
б) 0, 2, 3, 1, 7, 4, 5, 8, 6, 10

в) 0, 3, 4, 5, 1, 2, 6, 9, 8, 7, 10

5. Оцвети излишната фигура от всяка лента.



6. Напиши на кои две числа може да бъде сбор числото 9, както е показано.



7. Оцвети задачите, при които отговорът е 8.

$4 + 3$

$6 + 2$

$4 + 4$

$2 + 3$

$9 - 3$

$7 + 1$

$9 - 1$

8. Гергана е на 7 години. Когато тя се родила, сестра ѝ била на 2 години. На колко години е сестра ѝ?

$$\square \quad \square = \square$$

9. Ния, Марина и Марин са деца в първи клас. Отбележете с числа броя на буквите във всяко име.



10. Мечо Пух и Кристофър Робин изяли 10 лъжици мед. Мечо изял 7. Колко изял Кристофър Робин?

$$\square \quad \square = \square$$

