



I клас

/училище/

/име, презиме, фамилия/

1. Постапи V под верния отговор, както е показано.

	6	7	8
$3 + 3 =$	V		
$6 + 0 =$			
$5 + 3 =$			
$6 + 2 =$			
$4 + 4 =$			
$3 + 4 =$			
$1 + 6 =$			
$7 + 0 =$			



2. Кое число е пропуснато в задачите?

- а) 7 б) 8 в) 9

2 ед. + _____ ед. = 10 ед.

1 дес. = 2 ед. + _____ ед.

**3. Във въздуха летят 2 орела, 4 гълъба, 3 врабчета и 5 пчели.
Колко птици общо летят във въздуха?**


а) 10 птици

б) 14 птици

в) 9 птици



4. Постави пропуснатите номера на децата.



5. Кое число трябва да поставим, за да е вярно $10 < \underline{\quad} < 12$?

а) 10


б) 11

в) 12

6. В двора на баба играят 1 кученце, 1 пиленце и 2 патенца.

Колко крачета имат всички животни?

- а) 10 крачета б) 8 крачета в) 12 крачета



Колко крилца имат всички животни?

- а) 6 крилца б) 4 крилца в) 8 крилца

7. В празните квадратчета напиши едно и също число така, че да е вярно равенството:


$$\square + \square + 1 = 1$$

8. Мими наредила 7 книги на рафта в библиотеката си. Като брой отляво надясно, книгата „Мечо Пух” е на трето място. На кое място ще бъде тя, ако Мими брой отдясно наляво?

а) 5

б) 4

в) 6



9. Състави магически квадрат.

Не забравяй!

Сборът във всеки ред, във всяка колонка и по диагоналите трябва да е еднакъв.

3		2
	2	
2	3	1

10. Към най-малкото двуцифрено число прибави най-малкото едноцифрено число. Колко получи? Запиши.

